

السنة الثانية	اختبار الثلاثي الأول ديسمبر 2010 المادة: رياضيات	المدرسة الابتدائية الخاصة نور المعارف
الاسم و اللقب:		

السند 1: دُمْنَا سِتَّةَ عَيْدٍ الْأَضْحَى أَنْ تَلَامِيذُ
مَدْرَسَتِنَا مَسْتَشْفَى الْأَهْلِيَّاتِ لِتَقْدِيمِ
الْهَدَايَا

تَشَارَكَ فِيهَا بِهَذِهِ الزِّيَارَةِ 36 وَوَلَدًا
و 45 بِنْتًا وَ 3 مَهْلِكِينَ

التعليمة 1-1: أُرْتَبِ عَدَدَ التَّلَامِيذِ

م 2 ب
ب

التعليمة 2-1: أُرْتَبِ أَعْدَادَ الْقَلْبِيَّةِ تَشَارُفِيًّا

م 2 ب
ب

السند 2: سَاهَمَ التَّلَامِيذُ بِـ 23 لِقْتَبَةٍ
فِكْرِيَّةٍ وَ 12 لِقْتَبَةٍ الْكَلِمَاتِيَّةِ

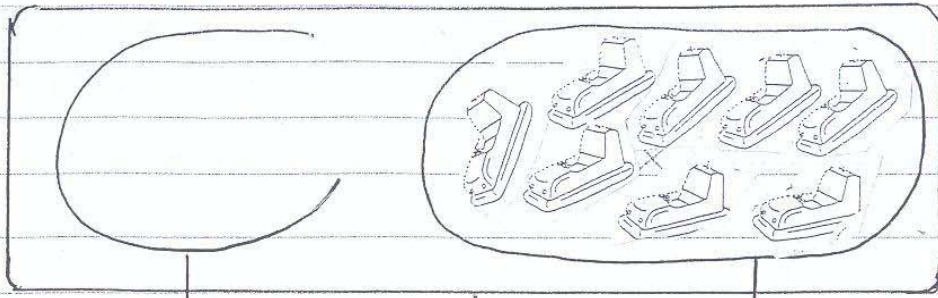
التعليمة 2-1: أُرْتَبِ عَدَدَ اللَّعِبِ

م 2 ب
ب

التعليمة 2-2: أُرْتَبِ أَعْدَادَ الْقَلْبِيَّةِ نَصَاعِدِيًّا

م 2 ب
ب

هَذَا تَقْيِيلٌ لِمَجْمُوعَةِ اللَّعِبِ الْإِلِكْتْرُونِيَّةِ



•

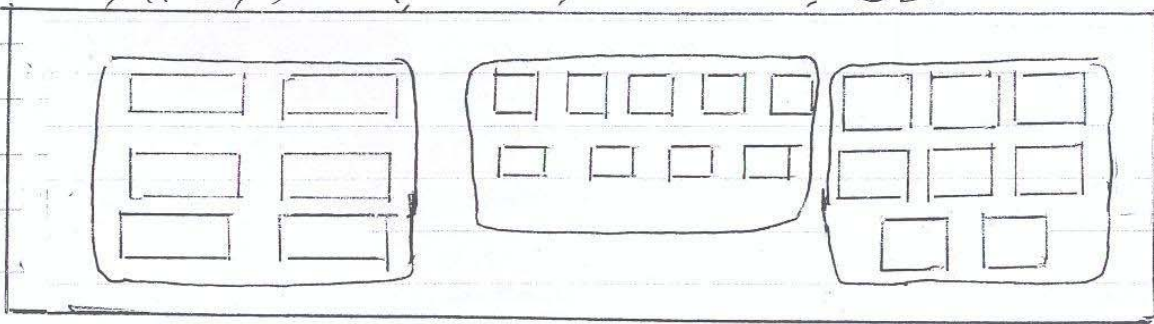
12

8

1
L

التعليمية 132 تُقَمُّ مَجْمُوعَةُ الدُّعَى فِي
مَجْمُوعَةِ اللَّعِبِ الْإِلِكْتْرُونِيَّةِ

هَذَا تَقْيِيلٌ لِمَجْمُوعَةِ اللَّعِبِ الْفِكْرِيَّةِ



$11 + 5 + 6$

$6 + 9 + 8$

$7 + 8 + 10$

1
L

التعليمية 4-2 أَمَلٌ بِالْأَفْتَةِ الْمُنَاسِبَةِ لِلتَّجْرِيَّةِ

كَمَا سَيَلْقَمُ النِّعْمُ الْأَخْرَجُ دَمْدَمٌ وَقَائِدُهُ خَلَوَاتُ
مُتَنَوِّعَةٌ


عَدَدُ الْقَطْعِ أَكْثَرُ مِنْ عَدَدِ اللَّعِبِ 14
التعليمية 2 كَمَا أُنْشِبُ عَدَدُ قِطْعِ الْخُلُوعَاتِ

2
L

التعليمية 2-5: أرتب أعداد العنقودية

أما المديرة فقد كوّنت تافئة أرقام كبيرة
بها أنواع مختلفة من الورود


التعليمية: أجزئي حسب حاجتي الأخطا



1 م
ب

السند 3: أرتب بعض الأرقام بشرط بصفات
معينة كتب عليها كل عام وأنتم
بخير

فساهم أمين ب 45 م




التعليمية: 1-3 أرتب هذا المبلغ
بأقل عدد ممكن من الأوراق النقدية
كما ساهمت بتبنيته ب 38 م

3 م
ب

مديرة نقود تبنيته (5) (1) (1) (2) (20) (20) (10)

التعليمية 2-3: أجد لغة معلق القطع التي
تقبل مقدار مساهمة

3 م
ب



التعليمية 3-3: أرتب المبلغ المتبقي

3 م
ب


السنة: أرادت تسمية أن تسمى قطعة شكلاً لها تباقي
لها فلاحظت أنه يدها لعمي

التعليق: أخرج علامته (X) أقام السؤال المناسب ثم أجيب عنه

- أحسب ثمن الشكل لاطية
- أحسب المبلغ المتبقي

م 15
ب

م 10
ب



هذه صورة
للأطفال وهم
يحملون
الكتاب

التعليق: أكل بي أقام - وراق
السلامة
خليل
راميا

م 4
ب

التعليق: ألوان الأفتة الصحيحة
ثلاثة على يمين يسار ساميا

م 4
ب

جدول إتمام الأعداد

مستويات التعداد	المعايير					
	معايير الحد الأدنى	معايير الحد الأدنى	معايير الحد الأدنى	معايير الحد الأدنى	معايير الحد الأدنى	معايير الحد الأدنى
التعداد التام	0	0	0	0	0	0
التعداد دون الحد الأدنى	0,5	1	1	1	1	0,5
التعداد الأدنى	1	2	2	2	2	1
التعداد الأقصى	1,5	3	3	3	3	1,5